

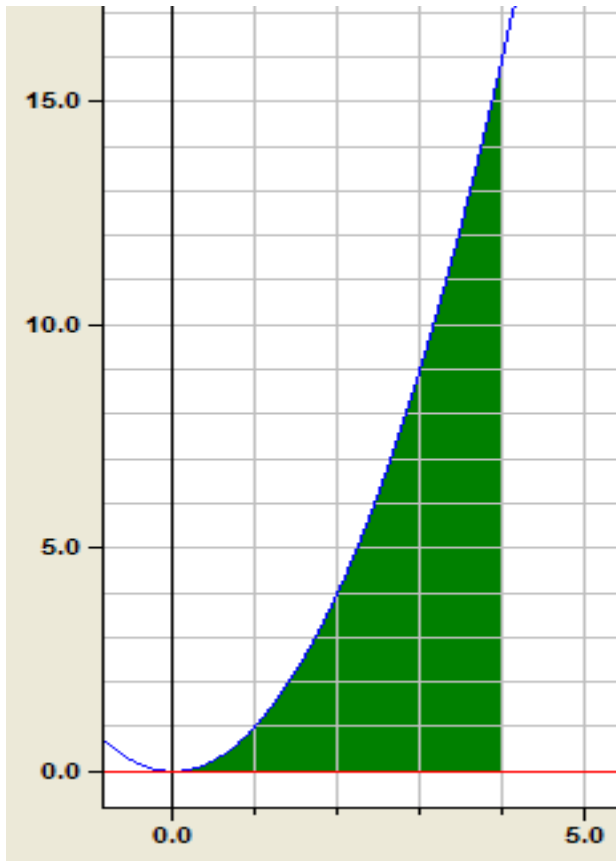
Schreibweise:

Mit: $\Delta x = \frac{b}{n}$

$$\lim_{n \rightarrow \infty} \sum_{k=1}^n f(x_k) \cdot \Delta x = \int_0^b f(x) dx$$

Labels: **Streifenbreite** (yellow box) points to Δx and dx . **Streifenhöhe** (blue box) points to $f(x_k)$ and $f(x)$.

Anwendung: $f(x) := x^2$ [0; 4]



$$A = \int_0^4 f(x) dx = \int_0^4 x^2 dx = F(4)$$

$$A = \frac{x^3}{3} = \frac{4^3}{3} = 21.333FE$$

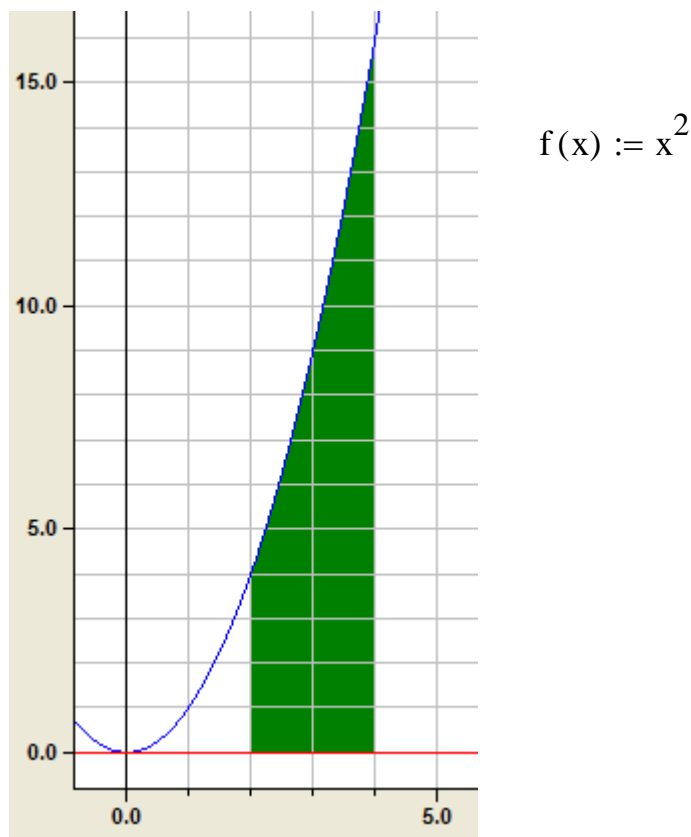
A = 21.333FE

FE= Flächeneinheiten

Beachte: Das Ergebnis kann näherungsweise überprüft werden, indem man in der obigen Darstellung die Kästchen (=1FE) auszählt.

Beim bisherigen Ansatz berechnen wir immer die Fläche unter dem Graphen von 0 bis b.

Wie ist nun vorzugehen, wenn wir z.B. die Fläche unter dem Graphen von $a=2$ bis $b=4$ berechnen wollen?



Es ist naheliegend, die beiden Flächen 0 bis 4 und 0 bis 2 zu berechnen und voneinander zu subtrahieren.

$$A_4 = \int_0^4 f(x) dx = \int_0^4 x^2 dx = F(4) \quad A_2 = \int_0^2 f(x) dx = \int_0^2 x^2 dx = F(2)$$

$$A_4 = \frac{x^3}{3} = \frac{4^3}{3} = 21.333\text{FE} \quad A_2 = \frac{x^3}{3} = \frac{2^3}{3} = 2.6666\text{FE}$$

$$A = A_4 - A_2 = 21.333\text{FE} - 2.666\text{FE} = 18.666\text{FE}$$

$$A = 18.666\text{FE}$$

Schreibweise:

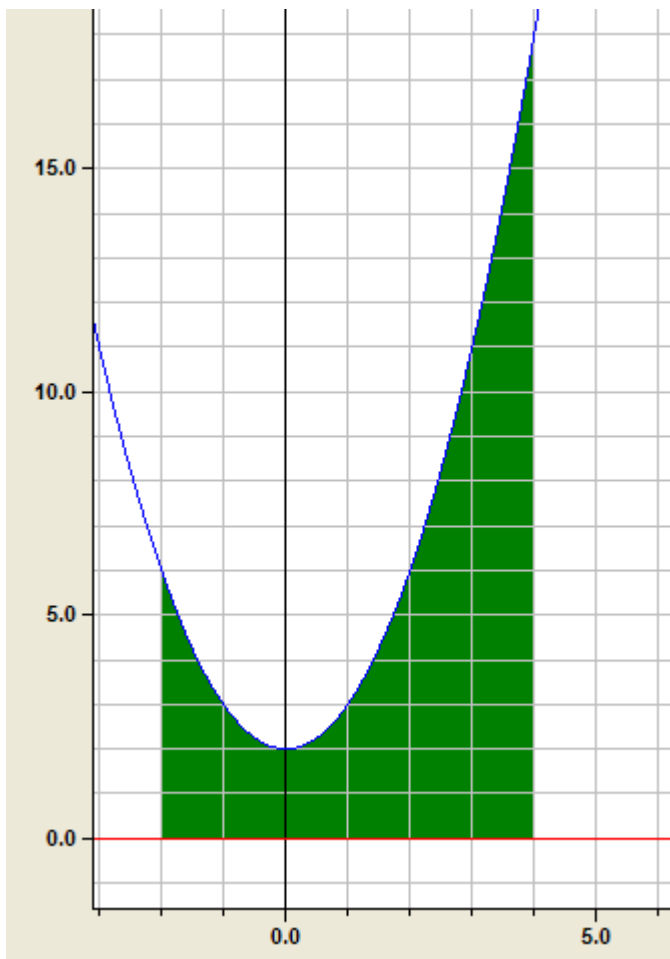
$$A = \int_2^4 f(x) dx = \int_2^4 x^2 dx = F(4) - F(2) = \frac{4^3}{3} - \frac{2^3}{3}$$

$$A = 18.666\text{FE}$$

Allgemein gilt:

$$\int_a^b f(x) dx = F(b) - F(a)$$

Überprüfen wir nun diese Vorgehensweise an verschiedenen Beispielen:



$$f(x) := x^2 + 2$$

$$\text{Intervall } I = [-2, 4]$$

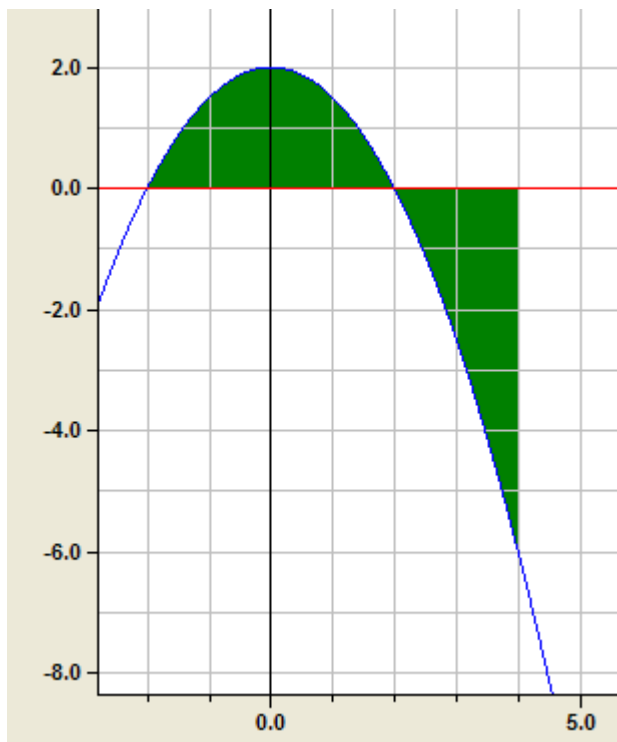
$$A := \int_{-2}^4 f(x) dx$$

$$A := \int_{-2}^4 (x^2 + 2) dx \quad F(x) := \frac{x^3}{3} + 2 \cdot x$$

$$A = F(4) - F(-2) = \left(\frac{4^3}{3} + 2 \cdot 4 \right) - \left[\frac{(-2)^3}{3} + 2(-2) \right]$$

$$A = 36 \quad \text{in FE}$$

Was passiert nun????? Probiere selbst!!!



$$f(x) := \frac{-1}{2} \cdot x^2 + 2$$

$$\text{Intervall } I = [-2, 4]$$

Ergebnis: $f_1(x) = -1/2 \cdot x^2 + 2$
 $f_2(x) = 0$

Integrationsintervall [a;b] von -2 bis 4

Orientierter Inhalt: $A_1 = 0,000025$

Absoluter Inhalt : $A_2 = 10,6667$

Fragen: a) Was bedeutet orientierter bzw. absoluter Flächeninhalt?
b) Wie ist der orientierte Inhalt etwa 0 FE zu interpretieren?